

# Círculo (básico)

## FICHA 1. Figuras circulares

### 1.1. Indica verdadero/falso:

V  F Segmento circular

V  F Sector circular

V  F Corona circular

V  F Trapecio circular

V  F Semicírculo

### 1.2. Completa:

segmento circular

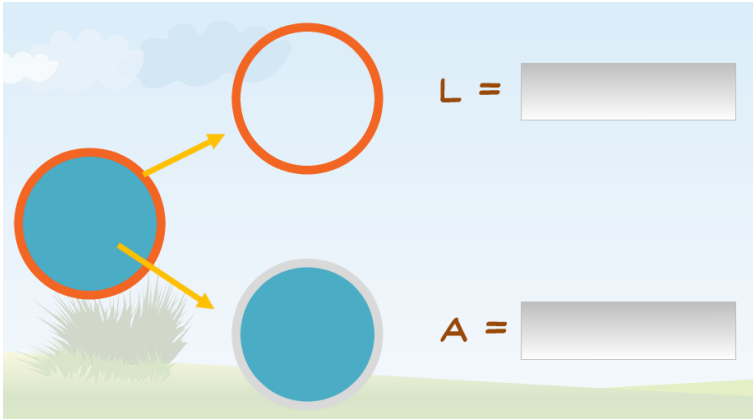
sector circular

corona circular

trapecio circular

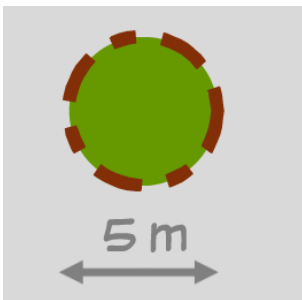
**FICHA 2. Fórmula del área**

2.1. Completa las fórmulas:



**FICHA 3. Problemas de áreas**

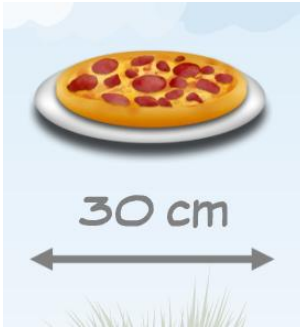
3.1. Calcula el área de la rotonda:



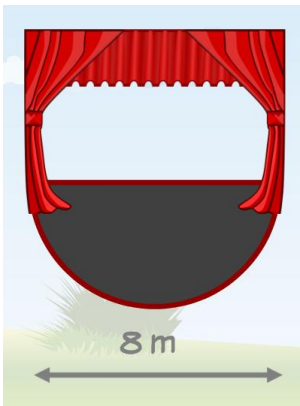
3.2. ¿Qué superficie ocupa este circo circular?



**3.3.** ¿Qué área (en  $m^2$ ) ocupan 10 pizzas?



**3.4.** ¿Qué área (en  $m^2$ ) ocupa el escenario?



**3.5.** ¿Qué área (en  $cm^2$ ) ocupa el trozo de pastel?

