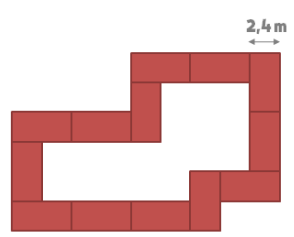



Perímetros (básico)

Ficha 1. Perímetros de figuras poligonales

1.1 * ¿Qué perímetro tiene este mercado si cada parcela mide el doble de ancho que de largo?



1.2 * ¿Cuánto me costará cercar exteriormente esta curiosa zona ajardinada si cada metro de cerca me cuesta 20 €?



Ficha 2. Perímetros de figuras circulares

2.1 * ¿Qué me costará empedrar el borde de esta piscina si me cuesta 48 € el metro lineal?

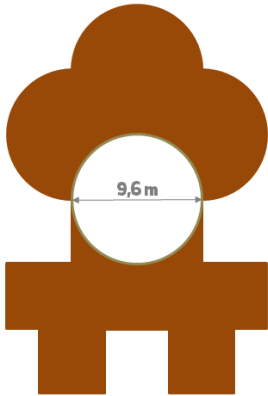


2.2 ** ¿Qué me costará cercar este parque con seto si cada metro lineal me cuesta 16 €?



Ficha 3. Perímetros de formas complejas

3.1 *** ¿Qué perímetro exterior tiene este moderno centro comercial?



3.2 *** ¿Qué perímetro exterior tiene este moderno centro comercial?

