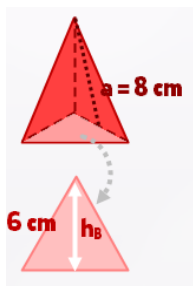


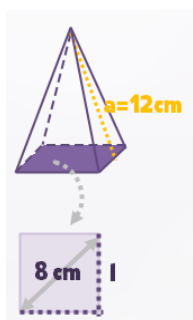
Pirámides (áreas ampliación)

Ficha 1. Áreas básicas complejas

1.1 *** Calcula el área total de la pirámide:

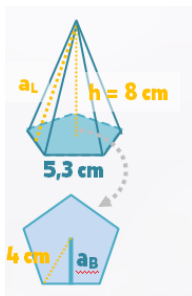


1.2 *** Calcula el área total de la pirámide:

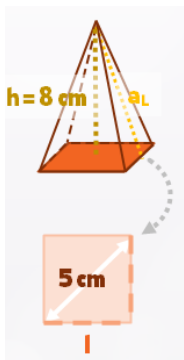


Ficha 2. Áreas laterales complejas

2.1 *** Calcula el área total de la pirámide:



2.2 *** Calcula el área total de la pirámide:



2.3 *** Calcula el área total de la pirámide con base hexagonal si su arista básica mide 8 cm y su altura 12 cm: