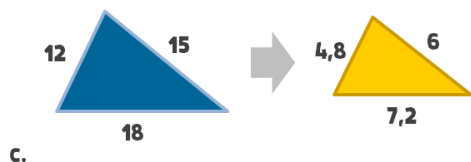
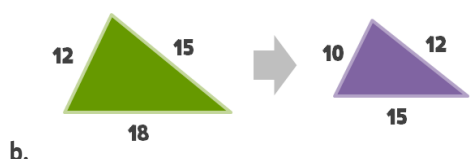
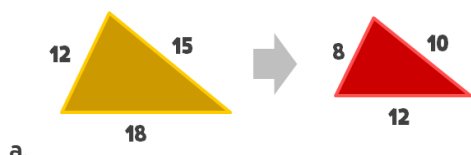


# Semejanza (triángulos)

## 1. Caso 1: Lados proporcionales

1.1 \*\* Averigua si los triángulos son semejantes:



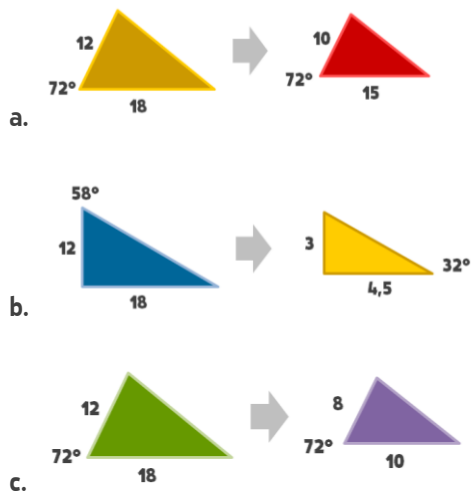
## 2. Caso 2: Dos ángulos iguales

2.1 \*\* Averigua si los triángulos son semejantes:



### 3. Caso 3: Un ángulo igual y lados contiguos proporcionales

#### 3.1 \*\* Averigua si los triángulos son semejantes:



### 4. Repaso

#### 4.1 \*\* Averigua si los triángulos son semejantes:



#### 4.2 \*\* Averigua si los triángulos son semejantes:



#### 4.3 \*\* Averigua si los triángulos son semejantes:



#### 4.4 \*\* Averigua si los triángulos son semejantes:

